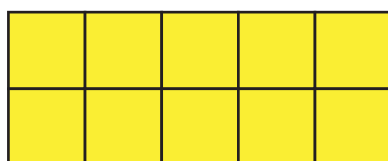


Nome Classe Data


IMMAGINI MENTALI E QUANTITÀ

- Filippo dice che fa fatica a immaginare i numeri decimali. Allora se li immagina così.

1,4



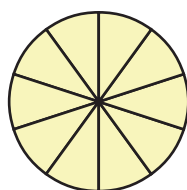
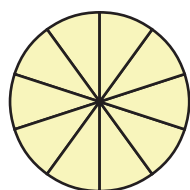

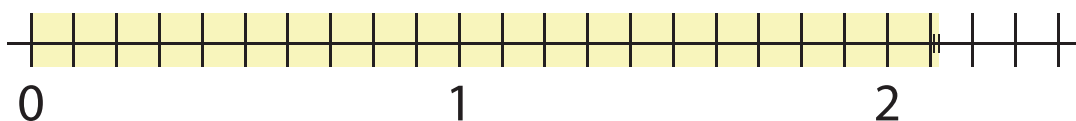
1 INTERO



4 DECIMI

- Cerchia il modo per te più facile di riconoscere la quantità.

2,12



Perché secondo te è più facile
in questo modo?

.....
.....
.....
.....

Quando vedo
un numero decimale
cerco di immaginarlo!

