


Nome Classe Data

ADDIZIONE O SOTTRAZIONE?/3



• Guarda Lampadina che sale e scende le scale. Poi collega con una freccia ogni problema al + o al – e risolvi. Il primo problema è già collegato.




10 fiori in tutto: 4 sono dalie. Quanti sono i ranuncoli?



8 dalie e 2 ranuncoli. Quanti fiori sono in tutto?

1 ranuncolo e 9 dalie. Quanti fiori sono in tutto?



10 fiori in tutto: 7 ranuncoli. Quante sono le dalie?