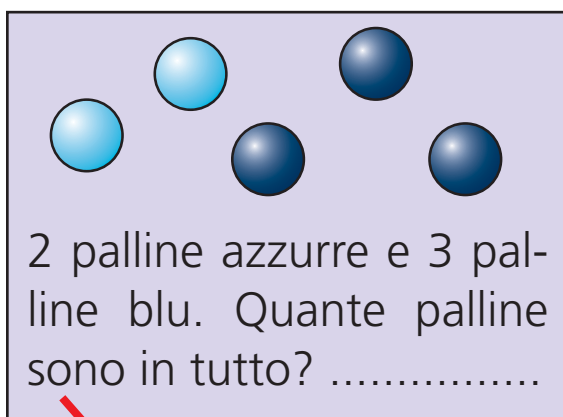


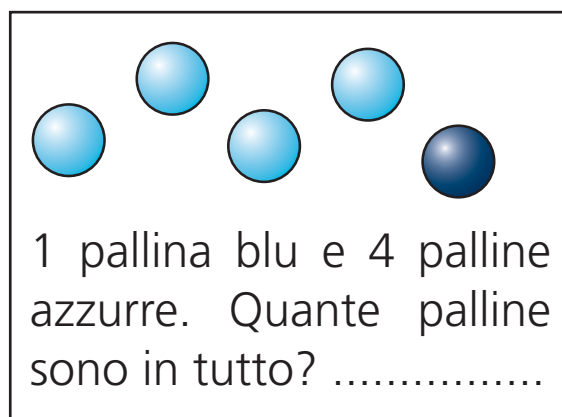
Nome Classe Data

ADDIZIONE O SOTTRAZIONE?/2



• Guarda Lampadina che sale e scende le scale. Poi collega con una freccia ogni problema al + o al – e risolvi. Il primo problema è già collegato.




2 palline azzurre e 3 palline blu. Quante palline sono in tutto?



1 pallina blu e 4 palline azzurre. Quante palline sono in tutto?



5 palline: 3 azzurre. Quante sono quelle blu?



5 palline: 4 azzurre. Quante sono quelle blu?