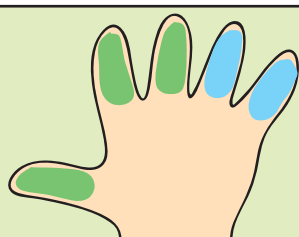


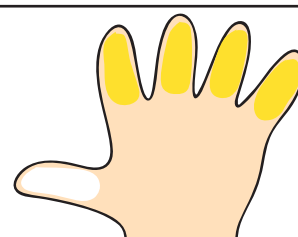
Nome Classe Data

ADDIZIONE O SOTTRAZIONE?/1

• Guarda Lampadina che sale e scende le scale. Poi collega con una freccia ogni problema al + o al – e risolvi. Il primo problema è già collegato.




3 dita verdi e 2 azzurre.
Quante in tutto?



4 dita gialle e 1 dito
bianco. Quante dita in
tutto?

Faccio una
addizione

+



Faccio una
sottrazione

—



5 dita: 3 rosse. Quante
sono quelle blu?



5 dita: 4 gialle. Quante
sono quelle nere?