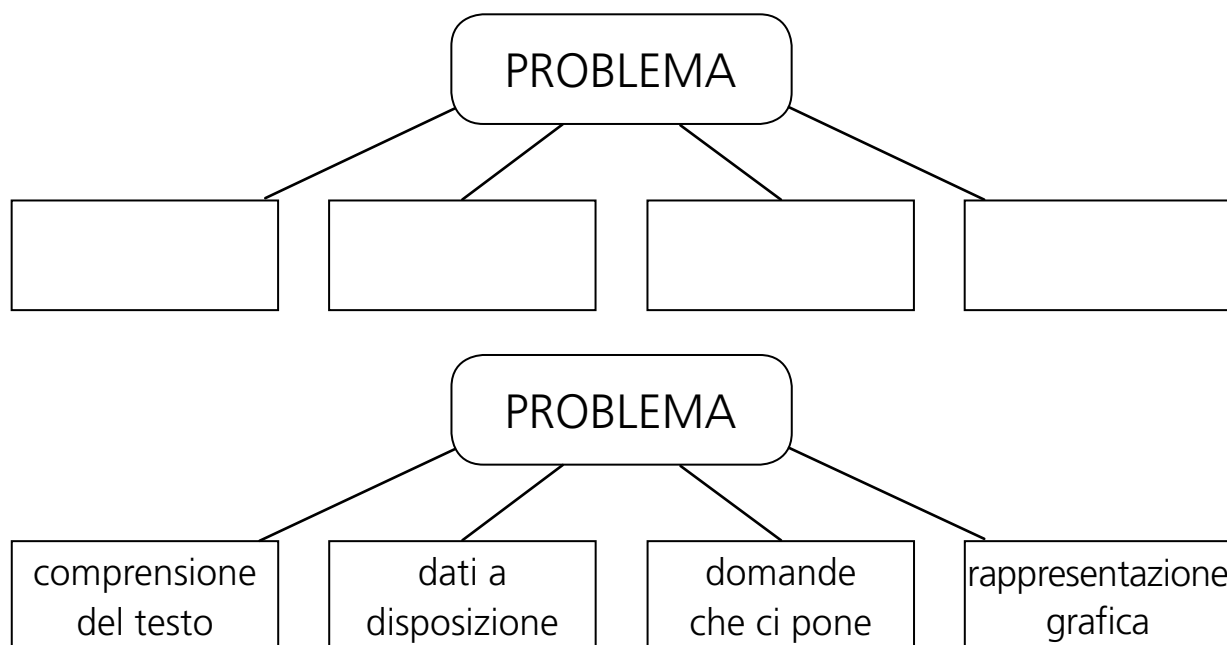


Nome ..... Classe ..... Data .....

## CAPIRE I PROBLEMI LAVORANDO PER TAPPE

### 1ª tappa: come sono fatti i problemi?





### 2ª tappa: "facciamo a pezzi" il problema


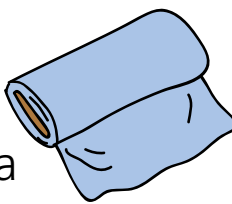
- Una sarta adopera 1,15 m di stoffa per confezionare una camicia.
- Deve confezionare 3 camicie uguali e prende la stoffa da una pezza lunga 0,5 dam.
- Quanta stoffa le occorre per confezionare tutte le camicie?
- Quanti metri di stoffa restano?

### 3ª tappa: la comprensione del testo: il "matematiche"

Una sarta **adopera** 1,15 m di stoffa per confezionare una camicia. Deve **confezionare** 3 camicie uguali e prende la stoffa da una pezza lunga 0,5 dam. Quanta stoffa le occorre per confezionare tutte le camicie? Quanti metri di stoffa restano?

Nome ..... Classe ..... Data .....


Parola che non conosco	Traduzione	Immagine
ADOPERA	USA	
CONFEZIONARE	FARE	

Una sarta  (adopera) USA 1,15 m di stoffa 

per (confezionare) FARE una camicia .

Deve (confezionare) FARE 3 camicie uguali e prende la stoffa

 da una pezza lunga 0,5 dam.


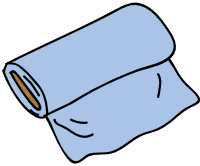
Quanta stoffa  le occorre per confezionare tutte le camicie?

Quanti metri di stoffa  restano?

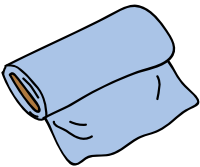
Nome ..... Classe ..... Data .....

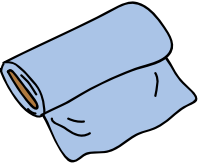
### 4<sup>a</sup> tappa: e ora cataloghiamo le informazioni e visualizziamole

- **A.** Catalogazione delle informazioni.

Una sarta  USA 1,15 m di stoffa  per

FARE una camicia  .


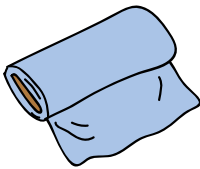
Deve FARE 3 camicie uguali e prende la stoffa  da  
una pezza lunga 0,5 dam.

Quanta stoffa  le occorre per FARE tutte le camicie?




Quanti metri di stoffa  restano?

Nome ..... Classe ..... Data .....

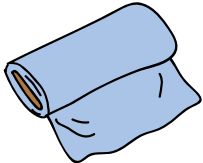



• B. Visualizzazione delle informazioni

Una sarta  USA 1,15 m di stoffa  per

FARE una camicia  .

Deve FARE 3 camicie uguali   

e prende la stoffa  da una pezza  lunga  
0,5 dam.

Quanta stoffa  le occorre per FARE tutte (    ) le camicie?

Quanti metri di stoffa  restano?