





LA BATTAGLIA NAVALE

- Indica in quali caselle si trovano gli oggetti disegnati.

|   | A | B   | C   | D | E | F   | G |
|---|---|---|---|---|---|---|---|
| 1 |   |   |   |   |   |   |   |
| 2 |   |   |    |   |   |   |   |
| 3 |   |   |   |   |   |   |   |
| 4 |   |  |   |   |   |  |   |
| 5 |   |   |   |   |   |   |   |
| 6 |   |   |   |   |   |   |   |
| 7 |   |   |  |   |   |   |   |

RICCIO: .....

TOPO: .....

UCCELLINO: .....

SCOIATTOLO: .....

- Disegna nello schema seguente:

- una casa in A4;
- una mela in C7;
- un'ape in E4;
- una matita in F5.

|   | A | B | C | D | E | F | G |
|---|---|---|---|---|---|---|---|
| 1 |   |   |   |   |   |   |   |
| 2 |   |   |   |   |   |   |   |
| 3 |   |   |   |   |   |   |   |
| 4 |   |   |   |   |   |   |   |
| 5 |   |   |   |   |   |   |   |
| 6 |   |   |   |   |   |   |   |
| 7 |   |   |   |   |   |   |   |

INDIVIDUARE LE COORDINATE UTILI A DESCRIVERE LA POSIZIONE DI UN OGGETTO.

Nome: \_\_\_\_\_

Classe: \_\_\_\_\_ Data: \_\_\_\_\_