

NOME..... CLASSE DATA


IL PRIMO E L'ULTIMO /1


- OSSERVA L'ESEMPIO.

ESEMPIO

IL PRIMO


L'ULTIMO



LA GIRANDOLA  OCCUPA

IL PRIMO

 POSTO.

LA FARFALLA  OCCUPA

L'ULTIMO

 POSTO.

- RITAGLIA E INCOLLA

IL PRIMO

 E

L'ULTIMO

 AL POSTO GIUSTO.



LA MATITA  OCCUPA POSTO.

LA MUCCA  OCCUPA POSTO.

IL PRIMO


L'ULTIMO



NOME..... CLASSE DATA

IL PRIMO E L'ULTIMO / 2

- RITAGLIA E INCOLLA **IL PRIMO** E **L'ULTIMO** AL POSTO GIUSTO.



LA GALLINA  OCCUPA POSTO.


IL CANE  OCCUPA POSTO.

IL PRIMO

L'ULTIMO



- ORA DISEGNA TU.



CHI OCCUPA **IL PRIMO** POSTO?

CHI OCCUPA **L'ULTIMO** POSTO?

NOME CLASSE DATA

DAL PRIMO AL QUINTO



- OSSERVA QUESTA GARA DI NUOTO. SCRIVI, O RITAGLIA E INCOLLA, ACCANTO A OGNI NUOTATORE LA SUA POSIZIONE.

3°		
1°	PRIMO	
2°		
4°	QUARTO	
5°		

TRAGUARDO



TERZO

SECONDO

QUINTO

- OSSERVA, LEGGI E COMPLETA LE FRASI.

PRIMO SECONDO TERZO QUARTO QUINTO



IL GATTO OCCUPA IL 3° POSTO.

IL MAIALINO OCCUPA IL POSTO.

IL CANE OCCUPA IL POSTO.

NOME CLASSE DATA

DAL PRIMO AL DECIMO






- SCRIVI IL NUMERO DEI PIANI DEL PALAZZO.



..... PIANO	↔	DECIMO
9° PIANO	↔
..... PIANO	↔	OTTAVO
..... PIANO	↔
..... PIANO	↔	SESTO
5° PIANO	↔
..... PIANO	↔
..... PIANO	↔	TERZO
2° PIANO	↔
1° PIANO	↔	PRIMO



- ORDINA DAL PRIMO AL DECIMO: DISEGNA E SCRIVI IL NUMERO.



NONO 	SESTO 	QUARTO 	SECONDO 	OTTAVO 
PRIMO 	DECIMO 	TERZO 	SETTIMO 	QUINTO 

.....	2°	3°	7°	8°	10°
									

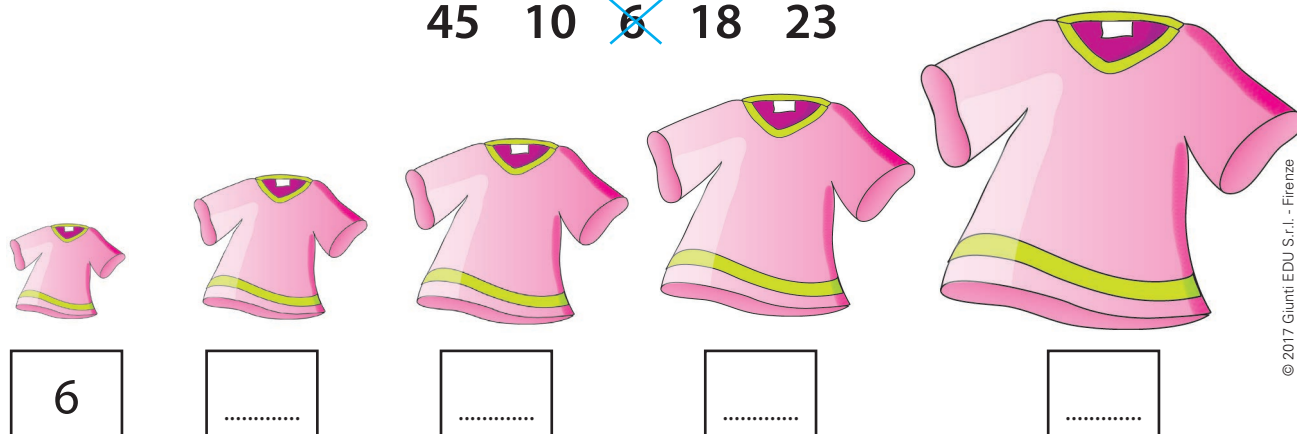
NOME CLASSE DATA

DAL PIÙ PICCOLO AL PIÙ GRANDE

- RIORDINA LE FOGLIE DALLA PIÙ PICCOLA  ALLA PIÙ GRANDE 
 E SCRIVI I NUMERI DAL PIÙ PICCOLO AL PIÙ GRANDE.
 PER AIUTARTI, FAI UNA **X** SUI NUMERI CHE HAI GIÀ SCRITTO.



- SCRIVI I NUMERI SOTTO ALLE MAGLIETTE DAL PIÙ PICCOLO AL PIÙ GRANDE.

 45 10 ~~6~~ 18 23


NOME..... CLASSE DATA

DAL PIÙ GRANDE AL PIÙ PICCOLO

- ORDINA I NUMERI DAL PIÙ GRANDE AL PIÙ PICCOLO.

	3	19	9	20	8	14	12					
20	>	19	>	14	>	12	>	>	8	>	3

	11	15	7	13	18	5	10					
18	>	>	>	>	>	>	5

	14	1	24	19	4	30	26					
30	>	>	>	>	>	>

	35	13	42	37	24	49	23					
.....	>	>	>	>	>	>



NOME CLASSE DATA



I SIMBOLI > < = NEI NUMERI FINO A 10



- INSERISCI IL SIMBOLO CORRETTO: **MAGGIORE >**
 MINORE <
 UGUALE =







ESEMPIO



8	>	3
	>	



1	<	5
	<	



4	=	4
	=	



10		5
		

3		6
		

6		6
		

3		8
		

7		2
		

9		4
		

7		8

1		1

9		6

9		9

5		6

8		4

NOME..... CLASSE DATA

I SIMBOLI > < = NEI NUMERI FINO A 50 / 1

- INSERISCI IL SIMBOLO CORRETTO: **MAGGIORE >**
 MINORE <
 UGUALE =

ESEMPIO

14	>	3
----	---	---

2	<	9
---	---	---

5	=	5
---	---	---

5	2
7	3
16	19
17	5
1	4
19	27
35	35
14	7

18	20
38	50
42	21
12	12
50	22
23	32
27	47
11	15

NOME..... CLASSE DATA

I SIMBOLI > < = NEI NUMERI FINO A 50 / 2

- GUARDA IL SIMBOLO E METTI UN NUMERO ADATTO. MAGGIORE >
 MINORE <
 UGUALE =

ESEMPIO

22	>	20
----	---	----

46	<	50
----	---	----

13	=	13
----	---	----




32	>
12	=
.....	>	37
11	<
9	>
.....	=	48
.....	>	34
20	>

9	<
.....	<	19
.....	=	8
30	>
42	<
.....	>	17
50	>
.....	=	3


NOME CLASSE DATA

Dal maggiore al minore


- Ordina questi numeri dal più grande al più piccolo.



423 ~~768~~ 231



121 211 321 312





987 879 798 997 989


NOME..... CLASSE DATA

Dal minore al maggiore

- Ordina questi numeri dal più piccolo al più grande.







656 566 666













378 381 389 379











990 976 989 879 897