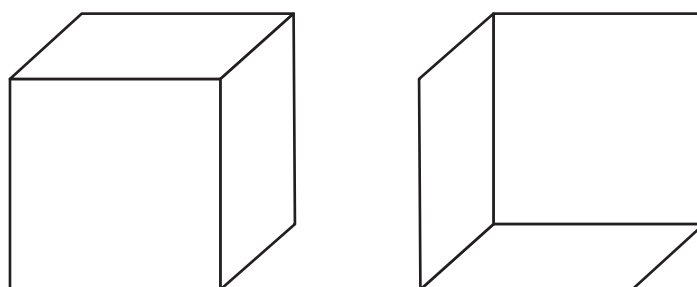


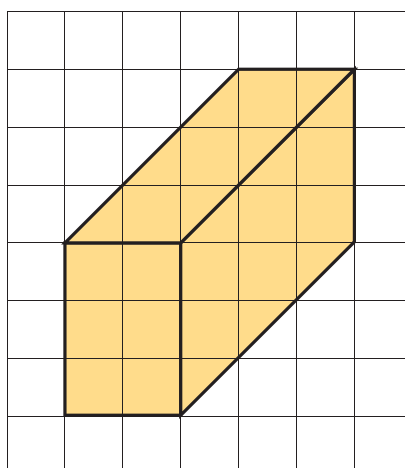
Nome ..... Classe ..... Data .....

### PUNTI DI VISTA

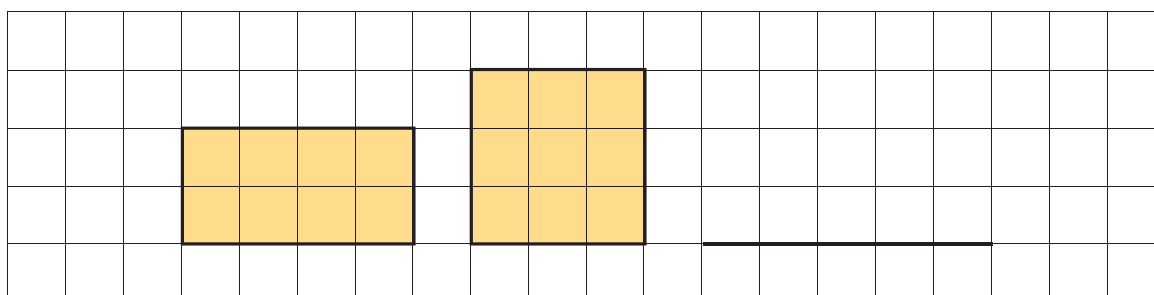
- Le due immagini rappresentano un cubo visto dal basso e dall'alto. Evidenzia con il colore giallo il cubo visto dall'alto e con il colore verde il cubo visto dal basso.



- Osserva l'immagine e svolgi l'attività.



Nell'immagine sopra è rappresentato un parallelepipedo rettangolo. I due rettangoli qui sotto rappresentano due facce del parallelepipedo. Completa il terzo disegno in maniera tale che rappresenti la terza faccia del parallelepipedo.



RICONOSCERE RAPPRESENTAZIONI BIDIMENSIONALI DI OGGETTI TRIDIMENSIONALI.