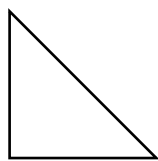
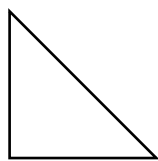



Nome Classe Data

RICOPRIRE SUPERFICI

- Quanti triangoli come questo  occorrono per ricoprire (tassellare) la superficie del quadrato qui sotto?
- Prendi le misure necessarie, disegna i triangoli, colorali come preferisci e rispondi.



L'area del quadrato è di..... triangoli

- Ora riproduci un quadrato con il lato di 8 cm sul tuo quaderno e prova a tassellarne la superficie con entrambe le figure disegnate qui sotto, disponendole come preferisci.



Confronta il tuo lavoro con quello dei compagni.

UTILIZZARE LE UNITÀ DI MISURA CONDIVISE PER LE AREE.