

Nome ..... Classe ..... Data .....

**CHE FIGURA È?**

- Osserva le figure, indica con una **X** quali delle caratteristiche elencate nella tabella possiedono, poi scrivi sui puntini il nome di ciascuna figura.


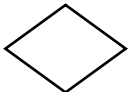


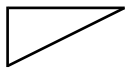
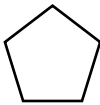
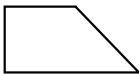
figura	tutti gli angoli uguali	tutti i lati uguali	una coppia di lati paralleli	due coppie di lati paralleli
 .....				
 .....				
 .....				
 .....				
 .....				
 .....				
 .....				

RICONOSCERE UNA FIGURA GEOMETRICA IN BASE A UNA DESCRIZIONE.

Nome ..... Classe ..... Data .....

**CHE FIGURA È?**

• Osserva le figure, indica con una **X** quali delle caratteristiche elencate nella tabella possiedono, poi scrivi sui puntini il nome di ciascuna figura.

figura	tutti gli angoli uguali	tutti i lati uguali	una coppia di lati paralleli	due coppie di lati paralleli
 quadrato	X	X		X
 rombo		X		X
 parallelogramma				X
 rettangolo	X			X
 triangolo				
 pentagono	X	X		
 trapezio			X	

RICONOSCERE UNA FIGURA GEOMETRICA IN BASE A UNA DESCRIZIONE.