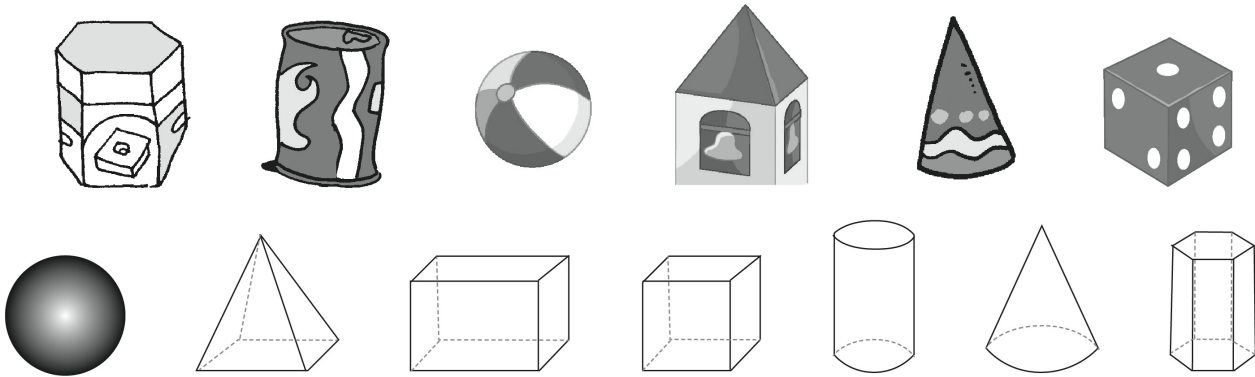


I SOLIDI

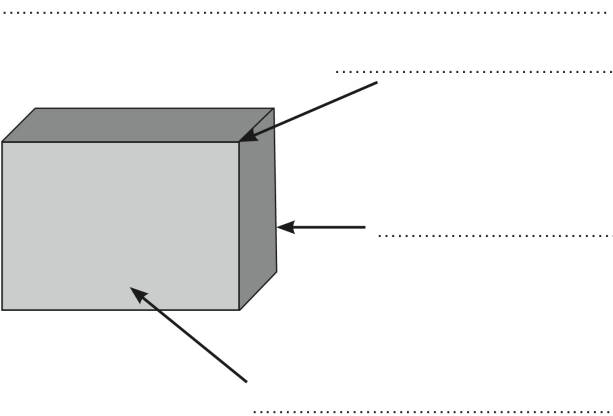
▪ Collega ogni oggetto alla figura solida corrispondente e scrivine il nome.



POLIEDRI	SOLIDI DI ROTAZIONE

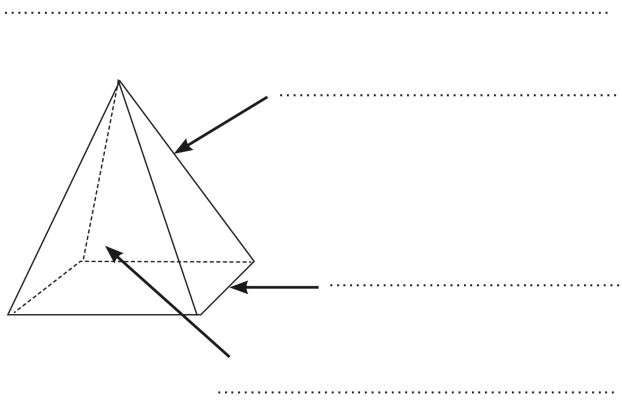
▪ Scrivi sui puntini i nomi di ciò che indicano le frecce e rispondi alle domande.

a) Come si chiama questo solido?



Quante sono le facce?

b) Come si chiama questo solido?



Quante facce ha?

DENOMINARE, CLASSIFICARE E DESCRIVERE SOLIDI.

Nome: _____

Classe: _____ Data: _____