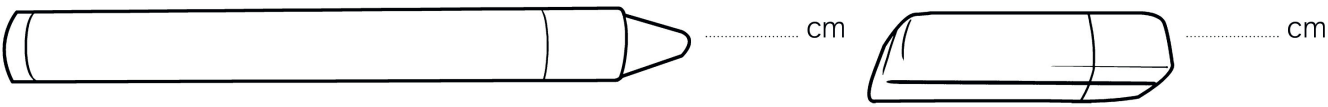




MISURE NELLA REALTÀ

Prendi un righello e misura la lunghezza di ciascun oggetto.



Indica con una X l'unità di misura adatta.



- peso:
12 ☐ kg ☐ g ☐ cg
- lunghezza:
90 ☐ m ☐ cm ☐ mm
- altezza:
80 ☐ m ☐ dm ☐ cm




- capacità:
200 ☐ ml ☐ l ☐ dal
- altezza:
10 ☐ m ☐ cm ☐ dm
- peso:
190 ☐ g ☐ kg ☐ mg




- peso:
1 ☐ Mg ☐ hg ☐ cg
- lunghezza:
4 ☐ km ☐ cm ☐ m
- altezza:
1,7 ☐ m ☐ dm ☐ mm

Scrivi quanto può misurare ciascun oggetto. Le marche ti aiuteranno.



peso: g



lunghezza: kg



capacità: dl

INDICARE IL VALORE DI MISURE DI LUNGHEZZA, CAPACITÀ E PESO.

Nome: _____

Classe: _____ Data: _____