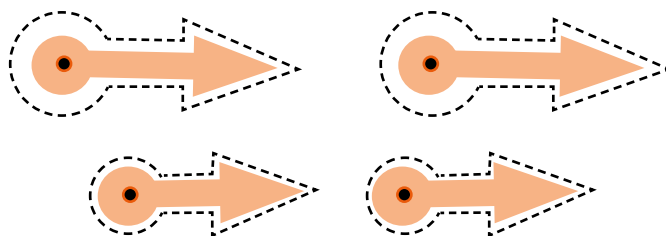
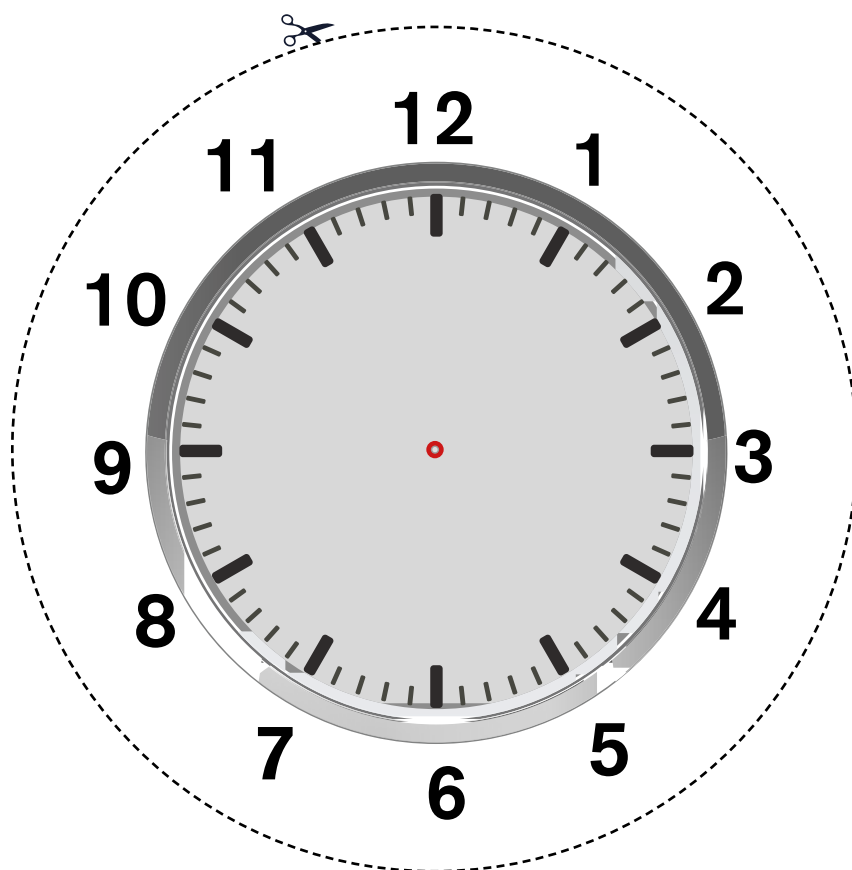


## L'OROLOGIO DEGLI ANGOLI

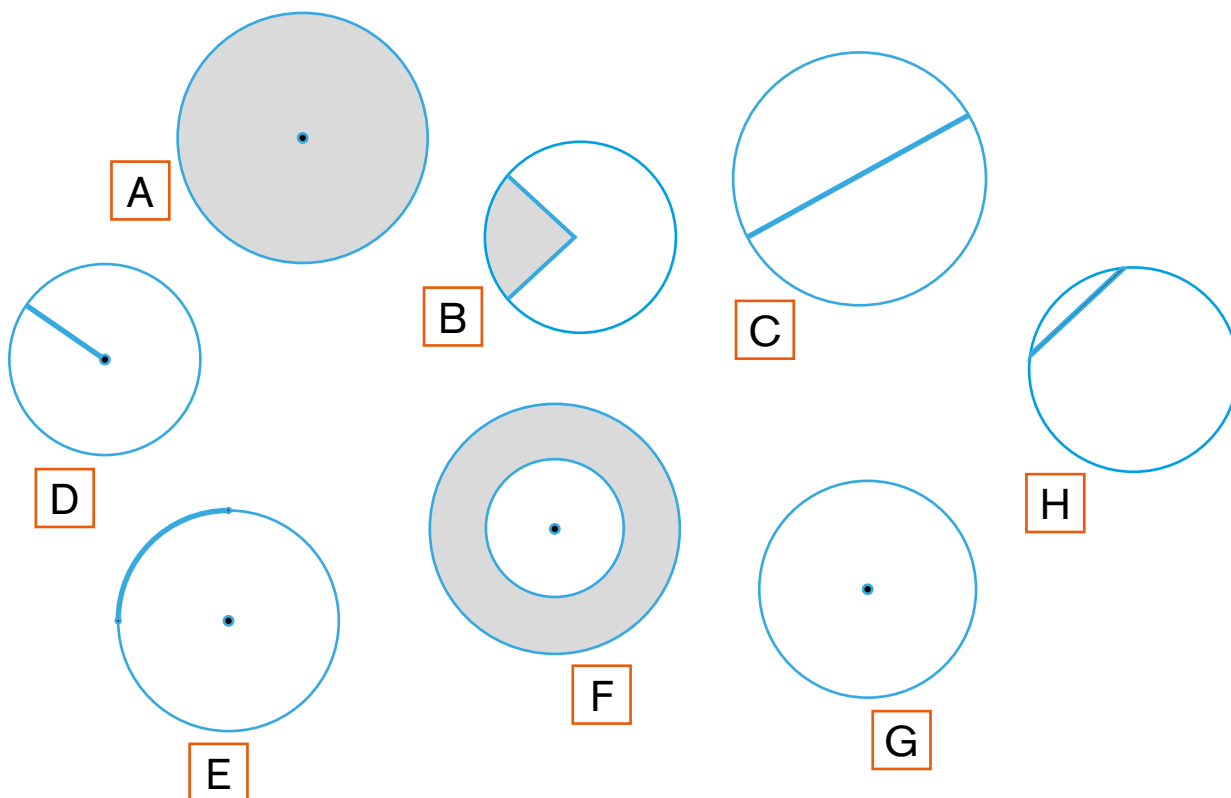
- Ritaglia il quadrante e le lancette. Forali dove indicato e fissa le lancette al centro del quadrante con un fermacampione.



COSTRUIRE UNO STRUMENTO PER CONFRONTARE GLI ANGOLI.

## IL CERCHIO E I SUOI ELEMENTI

▪ Collega ciascun termine al disegno giusto.

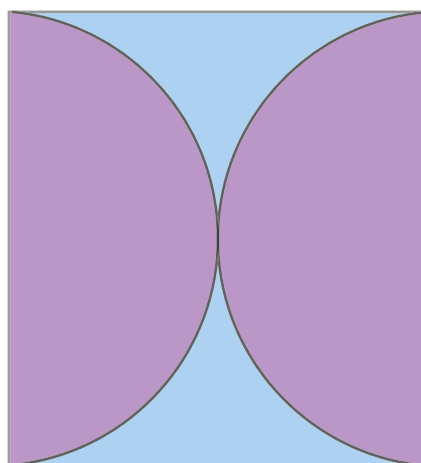


Cerchio	Circonferenza	Arco	Diametro
1 <input type="text"/>	2 <input type="text"/>	3 <input type="text"/>	4 <input type="text"/>
Corona circolare	Settore circolare	Raggio	Corda
5 <input type="text"/>	6 <input type="text"/>	7 <input type="text"/>	8 <input type="text"/>

RICONOSCERE GLI ELEMENTI DEL CERCHIO.

### **QUALE PROCEDURA DI COSTRUZIONE?**

- Qual è la procedura che contiene le informazioni complete per realizzare la seguente figura?



☐ **Prima procedura:**

1. Traccia un quadrato.
2. Traccia due semicerchi all'interno del quadrato.
3. Questi due semicerchi si toccano.

☐ **Seconda procedura:**

1. Traccia un quadrato.
2. Traccia due semicerchi all'interno del quadrato aventi per diametro i due lati opposti del quadrato.

**Spiega i motivi della tua scelta.**

INDIVIDUARE LA PROCEDURA DI COSTRUZIONE DI UNA FIGURA GEOMETRICA.