

## PERIMETRO E AREA

- Ripassa il contorno di tutte le figure con il colore rosso, conta ogni volta il numero dei lati, misura perimetro e area delle figure. Poi registra nella tabella in fondo.

— 1 cm       1 cm<sup>2</sup>

Numero lati: 10

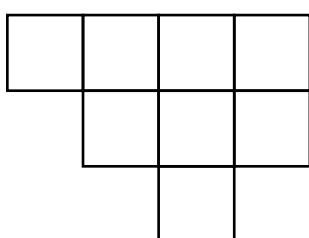


Figura A

Numero lati: .....

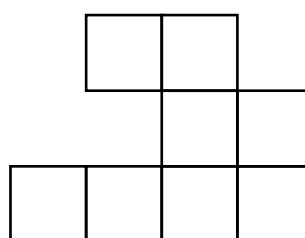


Figura B

Numero lati: .....

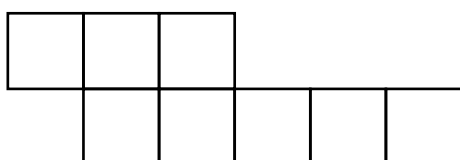


Figura C

Numero lati: .....

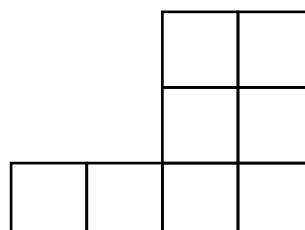


Figura D

| Figura   | Numero dei lati | Misura della superficie<br>AREA (cm <sup>2</sup> ) | Misura del contorno<br>PERIMETRO (cm) |
|----------|-----------------|--|---------------------------------------|
| Figura A | 10              |  |                                       |
| Figura B |                 |  |                                       |
| Figura C |                 |  |                                       |
| Figura D |                 |  |                                       |

USARE UNITÀ DI MISURA NON CONVENZIONALI E CONVENZIONALI PER DETERMINARE E CONFRONTARE TRA LORO PERIMETRI E AREE.