

Nome Classe Data

TANTI TANTI NUMERI

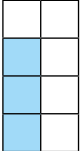
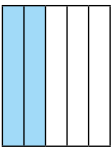
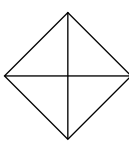
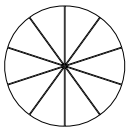
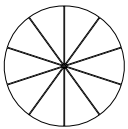
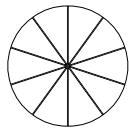
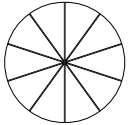
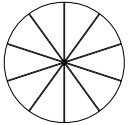
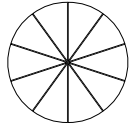
- Osserva e completa la tabella.

numero in lettere	in cifre	scomposizione
Trecentosettantadue e quattro decimi		3h 7da 2u 4d
	680,7	
	4532	
Ottomilaseicentocinque		
		5uk 5h 9da 9u
	87,5	
Settecentotretasette e due decimi		
	971,8	

- Colora con lo stesso colore i rettangoli che contengono rappresentazioni dello stesso numero.

duemilaseicento e due decimi	$8000 + 200 + 10 + 3 + 0,4$
$3000 + 400 + 50 + 8$	3uk 4h 5da 8u
2600,2	8213,4
$5000 - 1542$	2uk 6h 2d

- Completa con le frazioni o i numeri decimali mancanti e colora la porzione di figura corrispondente, come nell'esempio.

	frazione $\frac{3}{8}$	n.decimale		frazione $\frac{2}{5}$	n.decimale		frazione $\frac{1}{4}$	n.decimale
	frazione $\frac{3}{10}$	n.decimale		frazione $\frac{9}{10}$	n.decimale		frazione	n.decimale 0,5
	frazione	n.decimale 0,1		frazione $\frac{7}{10}$	n.decimale		frazione	n.decimale 0,4

LEGGERE, SCRIVERE E CONFRONTARE NUMERI NATURALI, NUMERI CON LA VIRGOLA E FRAZIONI.

Nome Classe Data

TANTI TANTI NUMERI

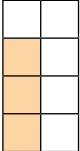
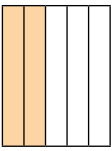
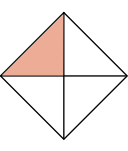
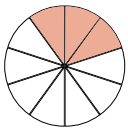
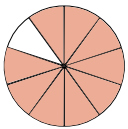
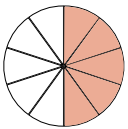
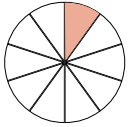
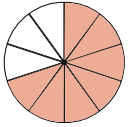
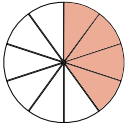
- Osserva e completa la tabella.

numero in lettere	in cifre	scomposizione
Trecentosettantadue e quattro decimi	372,4	3h 7da 2u 4d
Seicentottanta e sette decimi	680,7	6h 8da 7d
Quattromilacinquecentotrentadue	4532	4uk 5h 3da 2u
Ottomilaseicentocinque	8605	8uk 6h 2u
Cinquemilacinquecentonovantanove	5599	5uk 5h 9da 9u
Ottantasette e cinque decimi	87,5	8da 7u 5d
Settecentotrentasette e due decimi	737,2	7h 3da 7u 2d
Novecentosettantuno e otto decimi	971,8	9h 7da 1u 8d

- Colora con lo stesso colore i rettangoli che contengono rappresentazioni dello stesso numero.

duemilaseicento e due decimi	8000 + 200 + 10 + 3 + 0,4
3000 + 400 + 50 + 8	3uk 4h 5da 8u
2600,2	8213,4
5000 – 1542	2uk 6h 2d

- Completa con le frazioni o i numeri decimali mancanti e colora la porzione di figura corrispondente, come nell'esempio.

	frazione $\frac{3}{8}$	n.decimale 0,375		frazione $\frac{2}{5}$	n.decimale 0,4		frazione $\frac{1}{4}$	n.decimale 0,25
	frazione $\frac{3}{10}$	n.decimale 0,3		frazione $\frac{9}{10}$	n.decimale 0,5		frazione $\frac{1}{2}$	n.decimale 0,5
	frazione $\frac{1}{10}$	n.decimale 0,1		frazione $\frac{7}{10}$	n.decimale 0,7		frazione $\frac{2}{5}$	n.decimale 0,4

LEGGERE, SCRIVERE E CONFRONTARE NUMERI NATURALI, NUMERI CON LA VIRGOLA E FRAZIONI.