
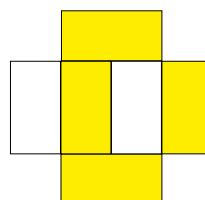
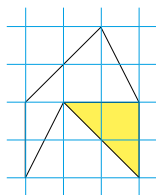
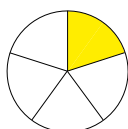
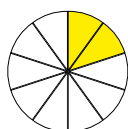


Nome Classe Data

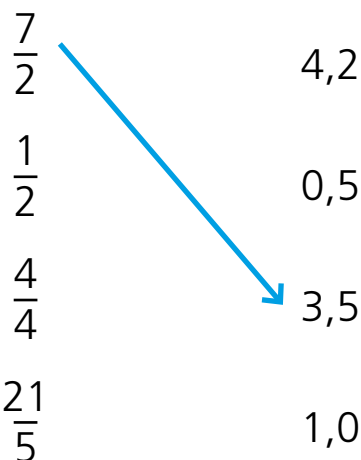
FRAZIONI E NUMERI CON LA VIRGOLA

- Scrivi sotto ciascuna figura la frazione corrispondente alla parte colorata.



.....

- Collega con una freccia la frazione e il numero con la virgola che rappresentano lo stesso valore.



- Scrivi per ciascun numero con la virgola la sua frazione generatrice.

$$3,6 = \frac{36}{10}$$

$$0,2 = \frac{\dots}{\dots}$$

$$24,58 = \frac{\dots}{\dots}$$

$$0,001 = \frac{\dots}{\dots}$$

$$90,0 = \frac{\dots}{\dots}$$

$$123,1 = \frac{\dots}{\dots}$$

$$14,235 = \frac{\dots}{\dots}$$

$$80,08 = \frac{\dots}{\dots}$$

CONOSCERE DIVERSE RAPPRESENTAZIONI DI NUMERI RAZIONALI E SAPER PASSARE DA UNA ALL'ALTRA.