


Nome ..... Classe ..... Data .....

## I PASSAGGI DI STATO DELL'ACQUA

- Disegna e descrivi brevemente i tre modi in cui si dispongono le particelle di acqua quando si trovano allo stato liquido, solido o aeriforme.


Stato liquido: .....

.....  
.....  
.....




Stato solido: .....

.....  
.....  
.....



Stato aeriforme: .....

.....  
.....  
.....



CONOSCERE GLI STATI FISICI DELL'ACQUA E IL LINGUAGGIO SPECIFICO LEGATO AI PASSAGGI DI STATO.