

Nome ..... Classe ..... Data .....

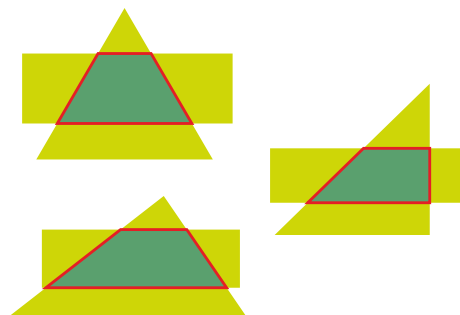
## ANALISI DELLA PAGINA

GEOMETRIA I quadrilateri

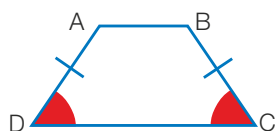
MATEMATICA

### Trapezi

trapezi.

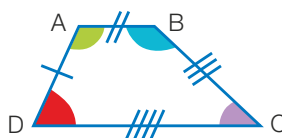


TRAPEZIO ISOSCELE:

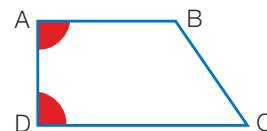


assi di simmetria.

TRAPEZIO SCALENO:



TRAPEZIO RETTANGOLO:

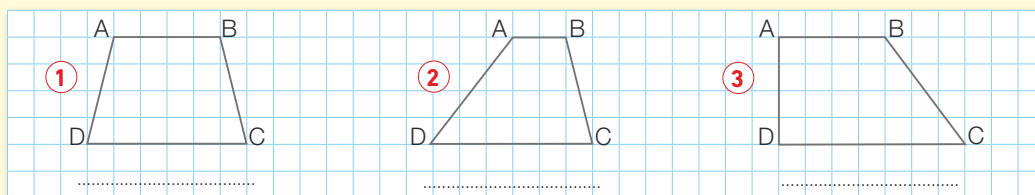


I trapezi

base maggiore e base minore  
isosceli, scaleni o rettangoli.

### ESERCIZI

- 1** Scrivi sotto a ogni trapezio il suo nome. Poi in ciascun trapezio, ripassa in blu la base maggiore, in verde la base minore e traccia, dove possibile, l'asse di simmetria.



In quale trapezio hai potuto tracciare l'asse di simmetria? .....