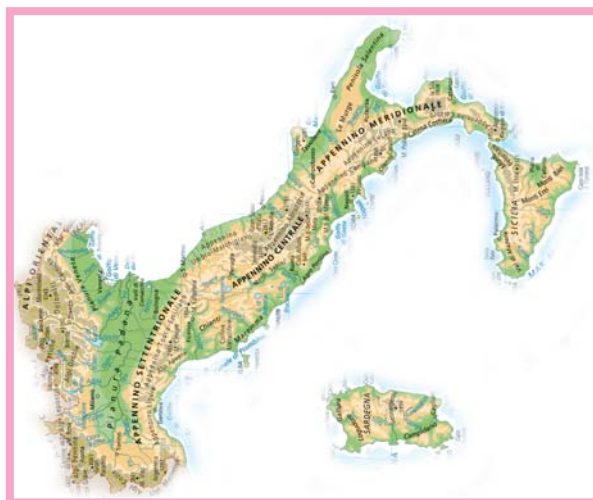
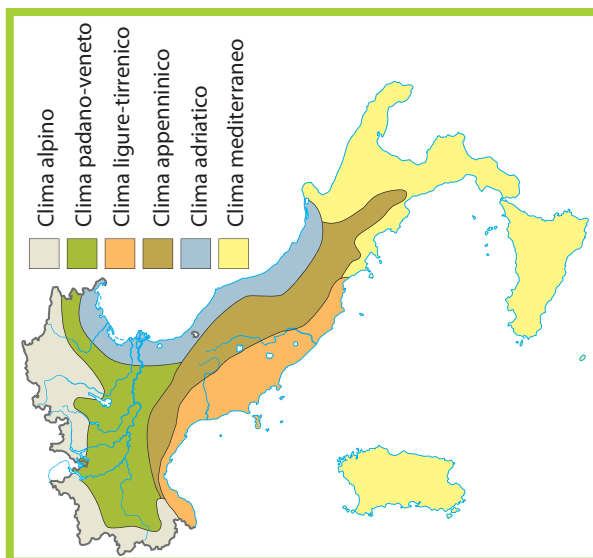
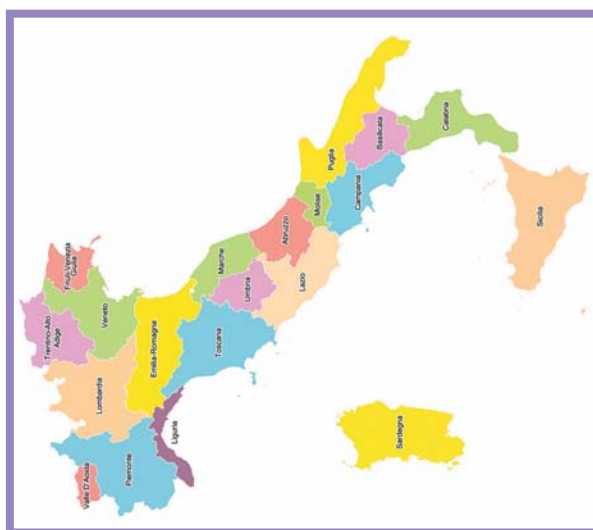


Nome ..... Classe ..... Data .....

## REGIONI E REGIONI

- Consultando la carta delle regioni politiche, morfologiche e climatiche dell'Italia, descrivi brevemente le regioni date.



Trentino Alto Adige: si trova ..... Calabria: .....

confina con .....

Il suo territorio è .....

Il clima è ....., con inverni ..... ed estati .....

ANALIZZARE IL TERRITORIO ITALIANO SECONDO VARIE ACCEZIONI DEL CONCETTO DI REGIONE.