

Nome Classe Data

DOVE SI TROVA...? DOVE VA...?

- Scrivi in quale casella si trova:






la stella.....

la luna

l'albero

la casa

la palla

5			
4			
3			
2			
1			
	A	B	C

- Segui le indicazioni e segna sul reticolo il percorso di Luca con le frecce.

Luca si trova in A1, si sposta in E1, poi va in F2, in E3, quindi in B3, in B2, in E2 e infine arriva in D1.

3						
2						
1						
	A	B	C	D	E	F






INDIVIDUARE POSIZIONI E PERCORSI UTILIZZANDO RETICOLO E COORDINATE.

Nome Classe Data

DOVE SI TROVA...? DOVE VA...?

- Scrivi in quale casella si trova:


la stella **B4**la luna **A1**l'albero **C3**la casa **B2**la palla **A5**

5			
4			
3			
2			
1			
	A	B	C

- Segui le indicazioni e segna sul reticolo il percorso di Luca con le frecce.

Luca si trova in A1, si sposta in E1, poi va in F2, in E3, quindi in B3, in B2, in E2 e infine arriva in D1.

3						
2						
1						
	A	B	C	D	E	F



INDIVIDUARE POSIZIONI E PERCORSI UTILIZZANDO RETICOLO E COORDINATE.