

Nome Classe Data

ANALISI DEL TESTO ORIGINALE

- Leggi attentamente il testo originale e prendi appunti per correggerlo e per riscriverlo.

Testo originale	Osservazioni e appunti
Titolo: L'UOMO PRIMITIVO	<i>Il titolo è sbagliato. Puoi correggerlo subito o cambiarlo alla fine</i>
I primi uomini comparsi sulla Terra, gli OMINIDI, erano ricoperti da moltissimi peli, avevano la faccia sporgente in avanti, il naso abbastanza aperto e schiacciato, una statura molto bassa, una capacità cranica molto ridotta (cioè un cervello molto piccolo, per cui non erano molto intelligenti).	<i>Qui c'è un errore. Il testo fa pensare che gli ominidi fossero la prima specie apparsa sulla Terra o che fossero tutti uguali e sempre gli stessi.</i>
Essi mangiavano soprattutto cibi vegetali (radici, germogli di piante, bacche) e occasionalmente carne. Cacciavano animali di piccola taglia servendosi di bastoni o di rami.	
Scheggiando la pietra per renderla tagliente erano capaci di costruire strumenti che servivano loro per scavare il terreno, affilare bastoni, staccare la carne degli animali morti dalla pelle e dalle ossa.	<i>Quale specie di Homo ha iniziato a scheggiare pietre?</i>
Poiché molti resti di ominidi sono stati scoperti in Africa (Etiopia, Tanzania), si pensa che abitassero in gran parte in questa regione.	<i>Questa frase è confusa. Riscrivila per renderla più chiara dal punto di vista geografico.</i>
Del gruppo degli ominidi fanno parte l' <i>Australopithecus</i> e l' <i>Homo habilis</i> (uomo abile).	<i>Degli ominidi fanno parte solo Australopithecus e Homo habilis? Qui devi aggiungere le altre specie di Homo che hai studiato sul libro di testo.</i>
Con il passare degli anni l'uomo diventa sempre più capace, è più intelligente e impara a fare molte cose. Pratica la caccia vicino ai corsi d'acqua dove vanno a bere gli animali e si sposta per seguire le loro migrazioni (spostamenti), diventa quindi nomade. Impara a produrre il fuoco sfregando due bastoncini o battendo due pietre focaie. Il fuoco gli serve per cuocere la carne e renderla quindi più masticabile, per scaldarsi, per illuminare, per spaventare le bestie feroci. Inizia a lavorare le pelli degli animali con le quali si cuce abiti più confortevoli. Pratica la sepoltura dei morti costruendo tombe di grandi dimensioni. L'uomo primitivo vive in caverne e grotte naturali spesso decorate con pitture e graffiti, ma comincia anche a costruire le prime capanne coperte di frasche e pelli.	<i>È corretto, secondo te far pensare – come fa il testo – che fosse lo stesso tipo di ominide (l'uomo primitivo) a evolvere? Usa le informazioni che hai e cercane altre per correggere.</i>

Nome Classe Data

Domanda guida per la ricerca delle informazioni:


l'evoluzione è avvenuta per cambiamenti della stessa specie di Homo o perché si sono formate via via specie diverse?

ALLA RICERCA DELLE INFORMAZIONI: OMINIDI

- Il testo letto, *L'uomo primitivo*, parla di *Australopitecus* e di *Homo habilis*. Prova a mettere in ordine queste immagini di specie Homo diverse. Poi rispondi.



Uomo di Neanderthal



L'*Homo habilis*, l'Uomo di Neanderthal e l'*Homo Sapiens* avevano caratteristiche fisiche in comune. Scrivi come erano.

Posizione

Andatura

Mani

In che cosa si distingueva l'*Homo Sapiens*?

.....

ALLA RICERCA DELLE INFORMAZIONI: LE DATAZIONI

- Nel testo non c'è una data ma la conoscenza è corretta se colloca i fatti nel tempo. In questo schema temporale segna il periodo dell'*Homo Sapiens*.

Periodi attribuiti dagli studiosi alle varie specie studiate					
Ominidi	Tra 4 milioni a 2,5 milioni di anni fa	Tra 1,9 e 1,6 milioni di anni fa	Tra 1,8 milioni e 200 000 anni fa	Tra circa 300 mila e 30 000 anni fa	Tra 130 000 e
Australopitecus					
Homo habilis					
Homo erectus					
Uomo di Neandertal					
Homo Sapiens					


Nome Classe Data

ALLA RICERCA DELLE INFORMAZIONI: LE TRACCE

- Attribuisce a ogni specie l'immagine di traccia che ha permesso agli studiosi di produrre le informazioni su di essa.



Chopper

Cranio che risale a
400 mila anni faAffresco nella grotta
di LascauxPietra scheggiata
a due facce

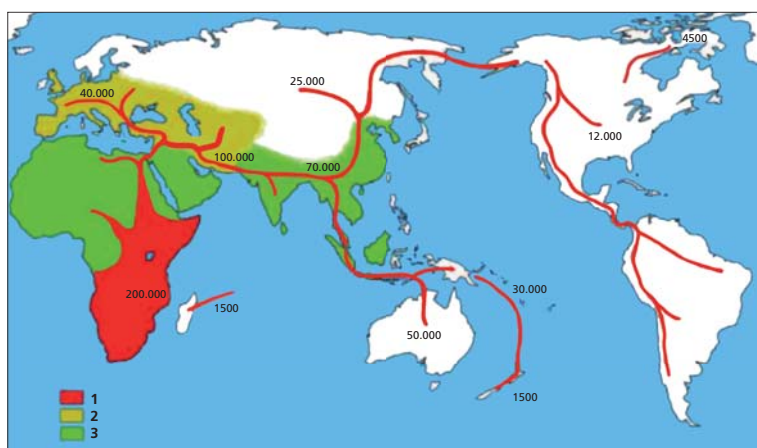
- | | |
|-----------------|------------------------|
| 1. Homo Sapiens | 2. Uomo di Neanderthal |
| 3. Homo erectus | 4. Homo habilis |

**ALLA RICERCA DELLE INFORMAZIONI:
I LUOGHI DEI RITROVAMENTI**

- Osserva il planisfero che rappresenta origine e spostamenti dei gruppi Homo studiati e correggilo con l'aiuto del grafico temporale e le informazioni che hai. Metti in relazione il tempo con lo spazio.

La carta mostra le aree colonizzate da (1) Sapiens, (2) Neanderthal e (3) specie precedenti. Le frecce indicano gli spostamenti e le date di arrivo dell'Homo Sapiens.

Il planisfero rappresenta una sola area occupata da gruppi Sapiens. Correggi questa rappresentazione, colorando di blu tutte le aree occupate dai Sapiens.

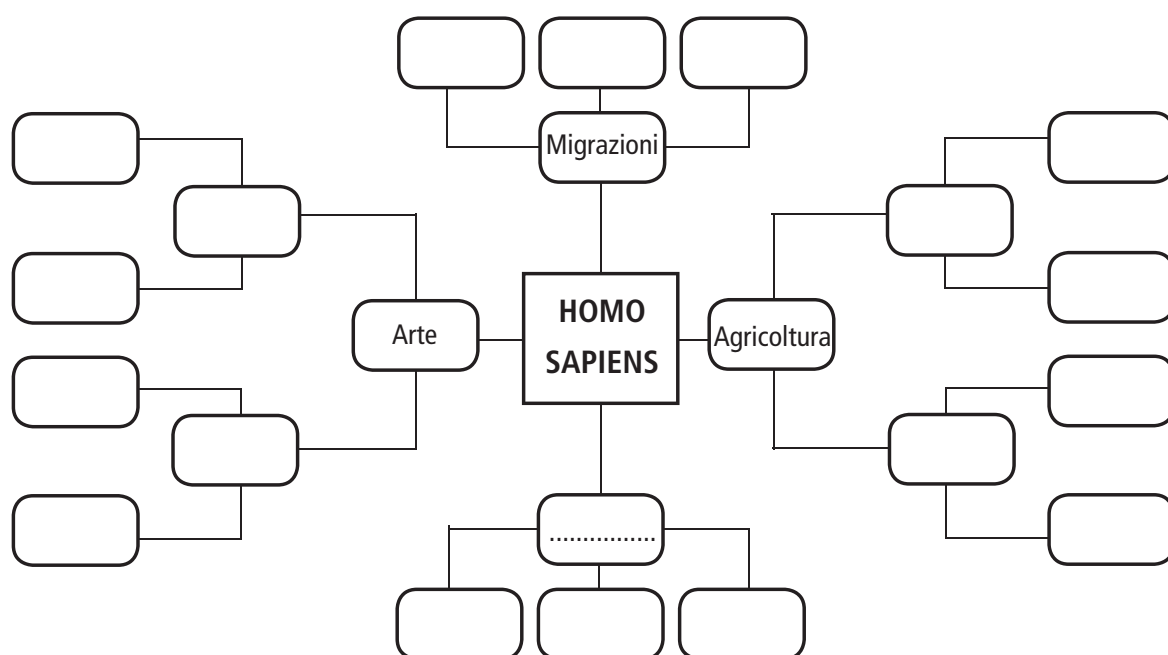


Nome Classe Data

COMPLETAMENTO DEL TESTO: CHE FINE HA FATTO LA SPECIE DEI SAPIENS?

- Raccogli in una mappa le informazioni che hai trovato fino ad ora sull'Homo Sapiens scrivendo brevi frasi. Integra la mappa con le relazioni relative al periodo Neolitico, quello in cui i gruppi di Sapiens cominciarono a dedicarsi all'agricoltura.

Per rispondere puoi consultare siti internet, il sussidiario, il quaderno, i libri della biblioteca.



- Infine rispondi: che cosa è successo all'Homo sapiens? Ripercorri tutti i passaggi del compito svolto e cerca se ci sono elementi che ci fanno pensare che siamo noi i Sapiens. Spiega con un breve testo il motivo della tua scelta.