

Nome Classe Data


MOLTIPLICAZIONE O DIVISIONE?/1

• Guarda Lampadina che sale e scende le scale. Poi collega con una freccia ogni problema al \times o al $:$ e risolvi.

Il primo problema è già collegato.




Ho 3 biciclette. Quante ruote ho in tutto?




Ho 4 ruote in tutto e 2 ruote per bicicletta. Quante biciclette ho?

Faccio una moltiplicazione
X



Faccio una divisione
•
•



Ho 2 biciclette. Quante ruote ho in tutto?



Ho 6 ruote in tutto e 2 ruote per bicicletta. Quante biciclette ho?