



Nome Classe Data

MOLTIPLICAZIONE O DIVISIONE?/2

• Guarda Lampadina che sale e scende le scale. Poi collega con una freccia ogni problema al \times o al $:$ e risolvi. Il primo problema è già collegato.




2 palline per sacchetto e 4 sacchetti. Quante palline sono in tutto?




6 palline in tutto e 3 sacchetti. Quante palline posso mettere in ogni sacchetto?

Faccio una moltiplicazione
X



Faccio una divisione
:



8 palline in tutto e 4 sacchetti. Quante palline posso mettere in ogni sacchetto?



2 palline in ogni sacchetto e 5 sacchetti. Quante palline sono in tutto?