

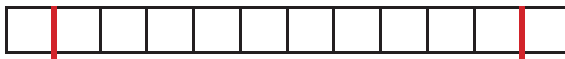
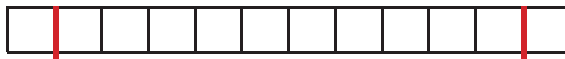


Nome Classe Data

LE GUERRE PERSIANE

- Completa lo schema di sintesi sulle guerre persiane.

PRIMA SPEDIZIONE PERSIANA	SECONDA SPEDIZIONE PERSIANA
Comandata da:	
Dove? Segna il percorso sulla carta.	
	
Quando? Segna sulla linea.	
 500 a.C. 400 a.C.	 500 a.C. 400 a.C.
Battaglie principali: scrivi i nomi, le date e colora i quadretti	
<div> <div></div> vittoria dei Persiani </div> <div> <div></div> (..... a.C.) </div>	<div> <div></div> vittoria dei Greci </div> <div> <div></div> (..... a.C.) </div> <div> <div></div> (..... a.C.) </div> <div> <div></div> (..... a.C.) </div>

PRODURRE INFORMAZIONI DA GRAFICI TEMPORALI, CARTE GEOSTORICHE E FONTI.