







Nome Classe Data

IL PORTAMENTO DEGLI ALBERI

- Osserva il portamento di alcune grandi piante della zona in cui vivi e indica l'albero o gli alberi che possono avere il portamento come quelli indicati nei disegni.

Conico o piramidale: 		Colonnare: 	
A ombrello: 		Sferico: 	

- Osserva i disegni e rispondi.

	
Larice	Olmo campestre

Quale delle due piante ti sembra quella in cui la dominanza apicale è durata di più? Perché?





.....

CONOSCERE E RAPPRESENTARE LA FORMA DEGLI ALBERI PIÙ SIGNIFICATIVI DELLA FLORA ITALIANA; FORMULARE IPOTESI SUI PROCESSI CHE REGOLANO LO SVILUPPO DELLE SPECIE ARBOREE E PIANIFICARE AZIONI PER VERIFICARLE.



Nome Classe Data

IL PORTAMENTO DEGLI ALBERI

- Osserva il portamento di alcune grandi piante della zona in cui vivi e indica l'albero o gli alberi che possono avere il portamento come quelli indicati nei disegni.

Conico o piramidale: abete, larice.		Colonnare: pioppo, cipresso.	
A ombrello: pino da pinoli.		Sferico: quercia (farnia, rovere).	

- Osserva i disegni e rispondi.

	
Larice	Olmo campestre

Quale delle due piante ti sembra quella in cui la dominanza apicale è durata di più? Perché? **Nel larice la dominanza apicale dura per tutto il corso della vita: si riconosce un unico fusto principale e tutti i rami laterali sono molto più piccoli del tronco.**

CONOSCERE E RAPPRESENTARE LA FORMA DEGLI ALBERI PIÙ SIGNIFICATIVI DELLA FLORA ITALIANA; FORMULARE IPOTESI SUI PROCESSI CHE REGOLANO LO SVILUPPO DELLE SPECIE ARBOREE E PIANIFICARE AZIONI PER VERIFICARLE.