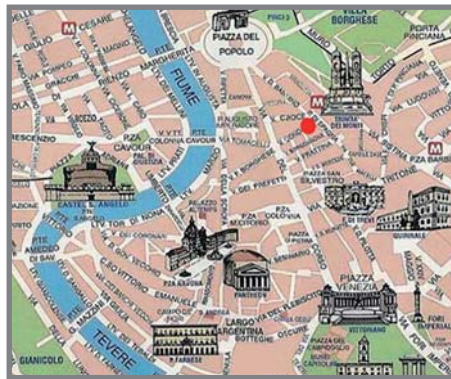


Nome ..... Classe ..... Data .....

## CARTE E SCALE DIVERSE

- Osserva, poi scrivi la definizione giusta sotto ciascuna rappresentazione cartografica. Scegli tra: *planisfero* – *mappa* – *carta topografica* – *carta corografica* – *carta geografica*.



È .....



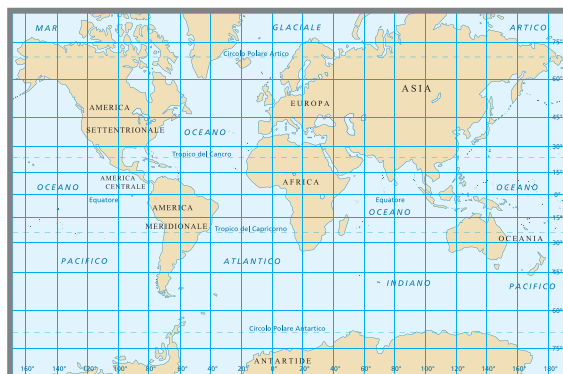
È .....



È .....



È .....



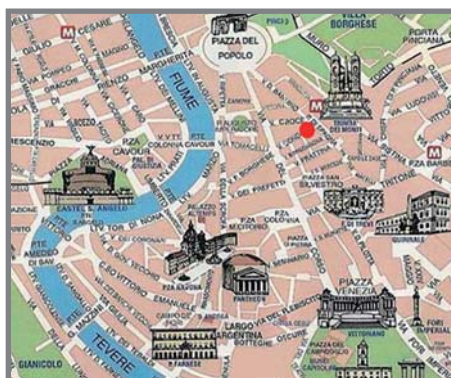
È .....

CONOSCERE LA DISTINZIONE DELLE CARTE IN BASE ALLA SCALA.

Nome ..... Classe ..... Data .....

## CARTE E SCALE DIVERSE

- Osserva, poi scrivi la definizione giusta sotto ciascuna rappresentazione cartografica. Scegli tra: *planisfero* – *mappa* – *carta topografica* – *carta corografica* – *carta geografica*.



È una mappa .....



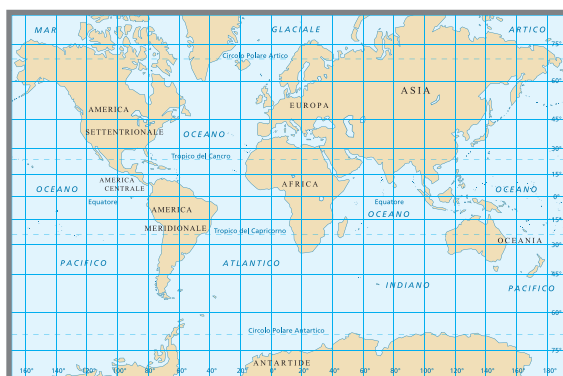
È una carta topografica .....



È una carta corografica .....



È una carta geografica .....



È un planisfero .....

CONOSCERE LA DISTINZIONE DELLE CARTE IN BASE ALLA SCALE.