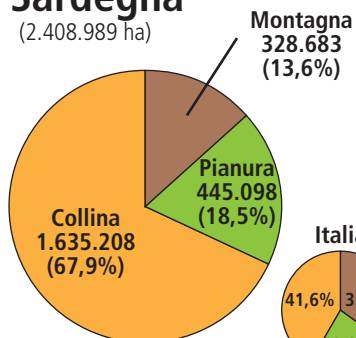


Nome Classe Data

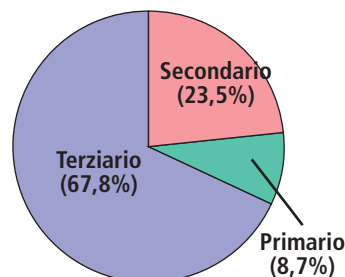
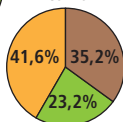
DESCRIVO UNA REGIONE DA CARTE E GRAFICI

- Osserva la carta e i grafici relativi alla Sardegna e produci un breve testo descrittivo.

Sardegna
(2.408.989 ha)



Italia



.....

.....

.....

.....

.....

RICONOSCERE CHE LO SPAZIO GEOGRAFICO È IL RISULTATO DI CONNESSIONE TRA ELEMENTI FISICI E ANTROPICI.